

# Intervaly

Intervaly - pojmenování, rozdělení <https://youtu.be/3bSQ4r6OHBw>

Intervaly - zápis a postup určování <https://youtu.be/t0AAcv8ROYA>

Spoj název intervalu se vzdáleností, kterou tvoří.

**ZAPAMATUJ SI:**

Interval - je výšková vzdálenost mezi dvěma tóny.

Interval	vzdálenost mezi dvěma tóny	Od tónu C
Prima	dva tóny stejné výšky	C - C
Sekunda	dva sousední tóny	C - D
Tercie	vzdálenost od prvního ke třetímu tónu	C - E
Kvarta	vzdálenost od prvního ke čtvrtému tónu	C - F
Kvinta	vzdálenost od prvního k pátému tónu	C - G
Sexta	vzdálenost od prvního k šestému tónu	C - A
Septima	vzdálenost od prvního k sedmému tónu	C - H
Oktáva	vzdálenost od prvního k osmému tónu	C - C

TERCIE    KVARTA    KVINTA    SEKUNDA    PRIMA

1. - 4. TÓN    1. - 2. TÓN    1. - 3. TÓN    DVA TÓNY STEJNÉ VÝŠKY    1. - 5. TÓN

Doplň primu od jednotlivých tónů.




Zakroužkuj další takty, které tvoří sekundu.



Vybarvi takty (intervaly):

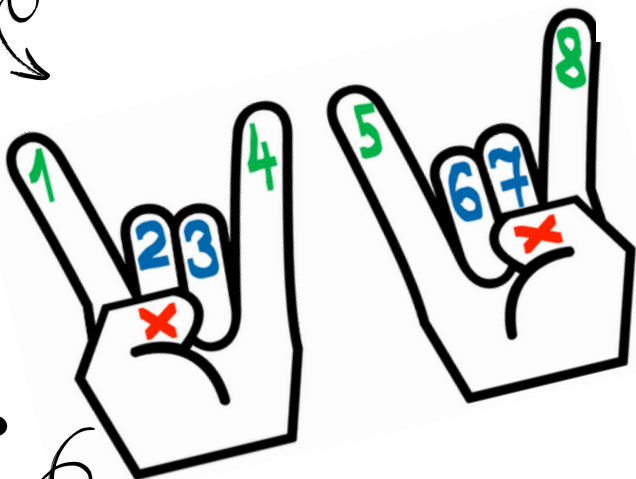
primu > červeně, sekundu > modře, tercii > zeleně, kvartu > žlutě




Doplň druhou notu intervalu.



Zahraj si na rockera! Prsty, které čouhají, představují **čisté** intervaly, zbylé intervaly **velké** (palce nepočítej).



Doplň správnou notu dle intervalu (**POZOR**, vycházíme z předznamenání: D dur = 2 křížky, A dur = 3 křížky).



**ZAPAMATUJ SI:**

Čisté (č.): prima, kvarta, kvinta, oktáva  
Velké (v.): sekunda, tercie, sexta, septima

Doplň názvy intervalů (např. v. 2, č. 4 atd.).

